

Matemáticas y Vida Cotidiana II.

Profesor: Lourdes de Abigaíl González Chávez

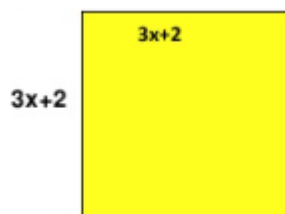
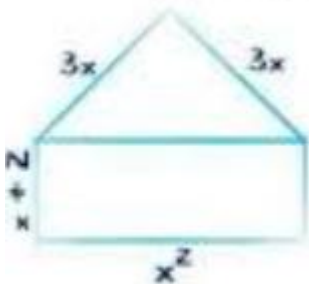
Nombre: _____ Grado: 2 Grupo: _____

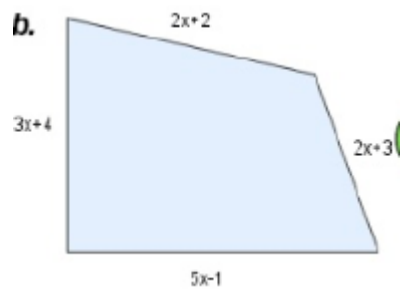
Practica lo aprendido

I. Completa la tabla con las sumas y restas de los polinomios indicados.

Polinomios	Suma	Resta
$10x + 9x^2 - 5$ $6x^2 + 3 - 7x$		
$2x^3 + 10x^4 - 5x^2 + 10x - 3$ $6x^4 + 3x^3 - 9x^2 + 7x + 4$		
$6x^4 - 5x^2 + 10x$ $3x^3 + 9x^2 + 4$		
$\frac{1}{3}x^4 - 4x + 1$ $\frac{2}{3}x^4 + 3x^3 + 100$		

II. Encuentra el perímetro de las siguientes figuras.





III. Expresa el perímetro de la siguiente cancha de futbol.

Supon que mide x metros de largo e y metros de ancho.

